

«У Т В Е Р Ж Д А Ю»

Начальник ОГБДД УМВД России  
по г. Чите подполковник полиции

\_\_\_\_\_ Ким П.А.

«У Т В Е Р Ж Д А Ю»

Председатель Комитета образования  
Администрации городского округа

« г. Чита» \_\_\_\_\_ Кирик О.И

**П О Л О Ж Е Н И Е**  
о заочном городском конкурсе  
юных инспекторов движения  
«Безопасное колесо – 2011»

*1. Общие положения*

Заочный городской конкурс юных инспекторов движения (далее - ЮИД) «Безопасное колесо - 2011» является отборочным первенством среди обучающихся общеобразовательных учреждений г. Читы.

Конкурс проводится Комитетом образования Администрации городского округа «ГОРОД ЧИТА», отделом ГИБДД УМВД России по г. Чите (далее – организаторы Конкурса).

Конкурс проводится ежегодно в рамках реализации мероприятий Федеральной целевой программы «Повышение безопасности дорожного движения в 2006 – 2012 годах».

*Цели Конкурса:*

воспитание законопослушных участников дорожного движения;  
профилактика детской безнадзорности и беспризорности;  
формирование у обучающихся воспитанников культуры здорового и безопасного образа жизни.

*Задачи Конкурса:*

сокращение детского дорожно – транспортного травматизма;  
совершенствование работы по профилактике детской безнадзорности и беспризорности, предотвращение правонарушений с участием детей;  
закрепление у обучающихся знаний Правил дорожного движения (далее – ПДД);  
привлечение детей к участию в пропаганде правил безопасного поведения на улицах и дорогах;

вовлечение детей в отряды юных инспекторов движения;  
привлечение детей к систематическим занятиям физической культуры и спорта.

Заочный городской Конкурс проводится среди общеобразовательных учреждений города Читы (сентябрь - декабрь) для того, чтобы выбрать 20 команд, которые будут участвовать в городском Конкурсе «Безопасное колесо – 2012» в мае месяце.

## *2. Организация и проведение Конкурса*

2.1 Общее руководство и подготовкой и проведением Конкурса осуществляет Оргкомитет, который формируется организаторами конкурса из числа представителей Комитета образования Администрации городского округа « г. Чите», отдела ГИБДД УМВД России по г. Чите, образовательных учреждений. (Приложение № 1).

2.2. Подведение итогов Конкурса возлагается на судейскую коллегию, утверждаемую оргкомитетом Конкурса. (Приложение № 1).

## *3. Участники Конкурса*

3.1 Участниками конкурса является команда образовательного учреждения;

3.2. Участниками Конкурса являются учащиеся 2000, 2001 и 2002 года (10 полных лет на начало мая).

3.3. Состав команды – 4 человека: 2 мальчика и 2 девочки и представитель общеобразовательного учреждения, в чьи обязанности входит предотвращение детского дорожно – транспортного травматизма.

## *4. Условия участия в Конкурсе*

4.1. Каждая команда, принимающая участие в Конкурсе, для регистрации представляет следующие документы:

Именную заявку на участие в Конкурсе, заверенную администрацией учреждения. (Приложение 2). Необходимо чётко указать день, месяц и год рождения;

Ксерокопии свидетельств о рождении каждого участника;

Эти материалы на участие в данном конкурсе представляются к 20 сентября 2011 года.

4.2 При отсутствии документов, предусмотренных п. 4.1, команда к участию заочного Конкурса не допускается.

1. Выполненные работы по заочному конкурсу «БК»;
2. Эскизы Информационных уголков, справки об информационной наполненности уголков и периодичности смены материала;
3. Конкурсные работы по безопасности дорожного движения «Рыцари дорожной безопасности».

Контактные телефоны: 35 – 66 – 32; 32 – 38 – 13 – Дворец детского (юношеского) творчества; 32 – 01 – 53 Комитет образования Администрации городского округа г.Чита; 32 – 03 = 44 ОГИБДД.

Творческие конкурсные работы и материалы по уголкам безопасности предоставляются во Дворец детского (юношеского) творчества в кабинет № 3 до 28 декабря 2011 года Лазаревой Людмиле Григорьевне.

#### 5. *Условия соревнований*

Разработку тестов, вопросов, заданий для теоретических и практических экзаменов, формирование экзаменационных билетов в соответствии с настоящим Положением осуществляет Оргкомитет Конкурса и рабочая группа Конкурса Система баллов указана в положении Конкурса.

#### 6. *Станции Конкурса*

### **1 станция – «Знатоки правил дорожного движения»**

Задачи на знание ПДД включают в себя:

6 задач на знание очередности проезда перекрёстка транспортными средствами, количество которых составляет не более 3. Одно транспортное средство – велосипед (Приложение №№ 3-4-5).

2 задачи на знание сигналов регулировщика (Приложение № 6, 7);

2 задачи с использованием иллюстраций для проверки внимания и умения наблюдать за дорожной ситуацией (Приложение № 8);

2 задачи с использованием иллюстраций на знание устройства велосипеда и экипировки велосипедиста (Приложение № 9, 10);

2 задачи с использованием иллюстраций на знание безопасного поведения на участках дорог, обозначенных дорожным знаком «Конец населённого пункта» (Приложение № 11);

2 задачи с использованием иллюстраций на знание правил безопасного поведения на участках дорог, обозначенных дорожным знаком «Жилая зона» (Приложение № 12);

2 задачи с использованием иллюстраций на знание правил безопасного перехода проезжей части улиц и дорог (Приложение №13);

2 задачи на знание групп дорожных знаков (Приложение № 14).

За каждое верно выполненное задание начисляется 2 балла.

## **2 станция – «Знание основ оказания первой доврачебной помощи»**

Задание:

Перечислите простейшие перевязочные материалы и подручные средства (Приложение № 16), а также общедоступные средства, содержащиеся в автомобильной аптечке для наложения простых повязок пострадавшему в дорожно – транспортном происшествии.

За каждое верно выполненное задание начисляется 2 балла.

## **3 станция – «Автогородок»**

Задание:

Каждый участник конкурса выбирает себе один из маршрутов прохождения очередности контрольных пунктов, предложенных (Приложением № 17, 18, 19, 20). Провести ручкой свой маршрут от старта через предложенные КП на схеме «Автогородка» до финиша.

За каждый правильно выполненный манёвр начисляется 2 балла.

## **4 станция – Основы страхования»**

Задание:

Дать определение следующим словам терминологии страхования:

1. Андеррайтер;
2. Выгодоприобретатель;
3. Государственный надзор за страховой деятельностью;
4. Страховая оценка;
5. Страховой тариф;
6. Сюрвейер;
7. Страховая сумма;
8. Страхователь;
9. Страховщик;
10. Франшиза.

За каждое краткое правильное определения начисляется 2 балла.

## **4 станция – «Основы безопасности жизнедеятельности»**

Плакат № 1. (Приложение № 21, 22, 23)

На листе 15 дорожных знаков с номерами.

Задание № 1. Записать номера знаков, которые разрешают движение пешеходов по установленным путям движения и элементам улиц и дорог.

На листе 15 дорожных знаков с номерами.

Задание № 2. Записать номера знаков, которые относятся к группе приоритета.

На листе 15 дорожных знаков с номерами.

Задание № 3. Записать номера знаков, которые запрещают движение велосипедистов.

Планшет № 2. (Приложение № 23)

Задание на знание последовательности действий велосипедиста при выполнении различных манёвров (поворот, обгон, пересечение трамвайных путей и дорог, разворот).

Планшет № 3. (Приложение № 24)

Дан рисунок на знание неправильных или правильных типов поведения пешеходов

Задание: указать номера пешеходов, которые нарушают правила поведения на дороге.

За каждое верно выполненное задание начисляется 2 балла.

## 5. Творческий конкурс команд: **«Вместе за безопасность дорожного движения»**

Творческий конкурс команд «Вместе за безопасность дорожного движения» - представляет мероприятия по формированию у обучающихся навыков безопасного поведения на улицах и дорогах, является обязательным и оценивается отдельно.

Тема творческого конкурса: **«ЮИД за безопасность дорожного движения!»**.

Выступление в творческом конкурсе проводится командой участников с использованием средств художественной самодеятельности в любой малой сценической форме (инсценированная песня, литературный монтаж, поэтическая зарисовка, поурри, КВН, фрагмент урока и т. д.)

Участники творческого конкурса выступают в парадной форме юных инспекторов движения (далее – ЮИД) (форма должна соответствовать направлениям деятельности отряда ЮИД; не допускается использование форменной одежды сотрудников милиции, а также милицейской фурнитуры: погон, шевронов, эмблем и кокард).

Представить плакат на тему **«ЮИД за безопасность дорожного движения»** на листе форматом А – 2.

При выступлении допускается использовать наглядную агитацию, атрибутику, музыкальное сопровождение (фонограмма «минус» ) и техническое оснащение. Продолжительность выступления не более 4-х минут.

Представить сценарий выступления.

Творческий конкурс оценивается по 10 балльной системе по следующим критериям:

- соответствие теме;
- качество сценария (содержание текста);
- оригинальность подачи материала;
- композиционная завершенность,
- полнота раскрытия темы;
- четкость и доходчивость изложения;
- эффект восприятия;
- внешний вид и др.

Подведение итогов.

Итоги подводит судейская коллегия. 20 команд, занявших с 1-го по 20 – е место, принимают участие в городских соревнованиях «Безопасное колесо – 2012»

## **Приложение № 1**

### **Председатели оргкомитета.**

1. Ким П.А.  
Начальник ОГИБДД МОБ УВД по г. Чите
2. Кирик О.И.  
Председатель Комитета образования администрации городского округа  
«ГОРОД ЧИТА»

### **Члены оргкомитета**

1. Кудрявцев В.А.  
Зам. Начальника ОГИБДД МОБ УВД по г. Чите
2. Гурьева О.В.  
Главный специалист Комитета образования
3. Никулина Л.Г.  
Директор ДД(Ю)Т

### **Судейская коллегия**

1. Гончарова О. В., главный судья
2. Бологова М.В.
3. Лясоцкая А.А..
4. Переломова Т.Г.
5. Лазарева Л.

Муниципальное общеобразовательное учреждение

**Средняя общеобразовательная школа №**

---

**Заявка**

На участие в заочном городском конкурсе юных инспекторов движения  
«Безопасное колесо – 2010»

Ф. И.О. участника	Дата рождения	
	.	

Директор МОУ СОШ № \_\_\_\_\_

Представитель команды :

---

Фамилия Имя Отчество

Печать

# Приложение №3 «Знатоки правил дорожного движения»

Задание: Установить очерёдность движения транспортных средств.


## Задача № 1



Ответ:

--	--

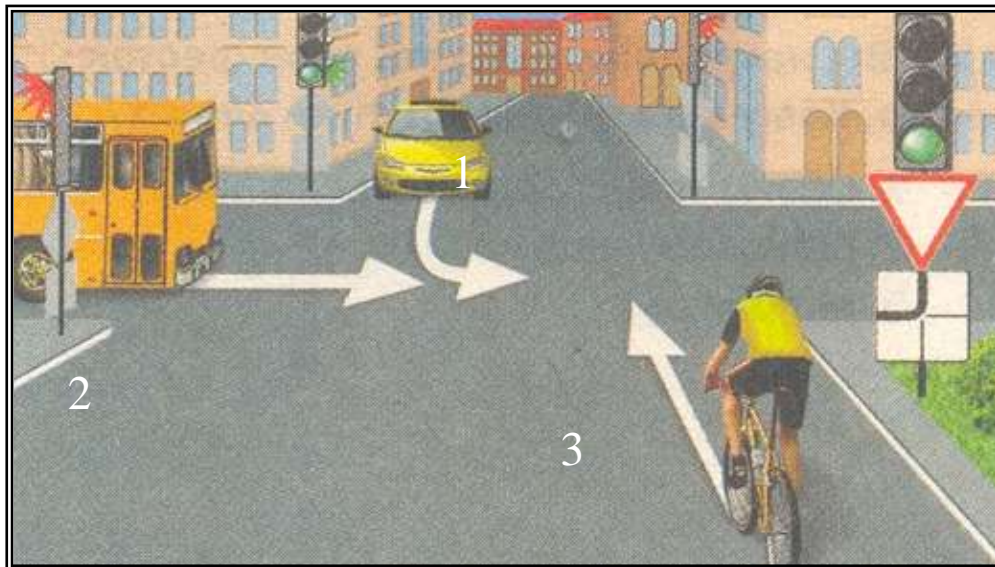
## Задача № 2



Ответ:

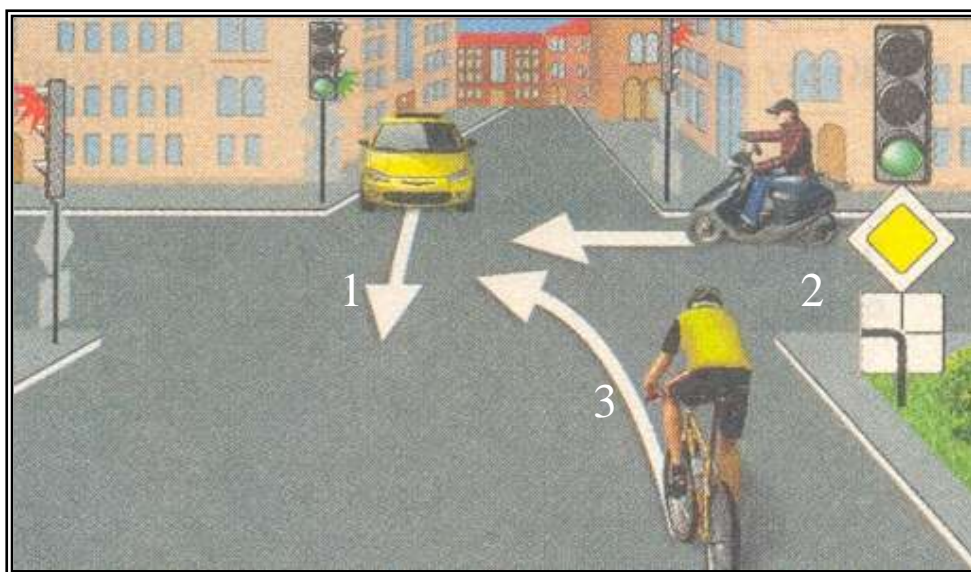
--	--	--

Приложение № 4 «Знатоки правил дорожного движения»  
Задача № 3



Ответ:


Задача № 4



Ответ:


Приложение № 5 «Знатоки правил дорожного движения»

Задача № 5



Ответ:

Задача № 6

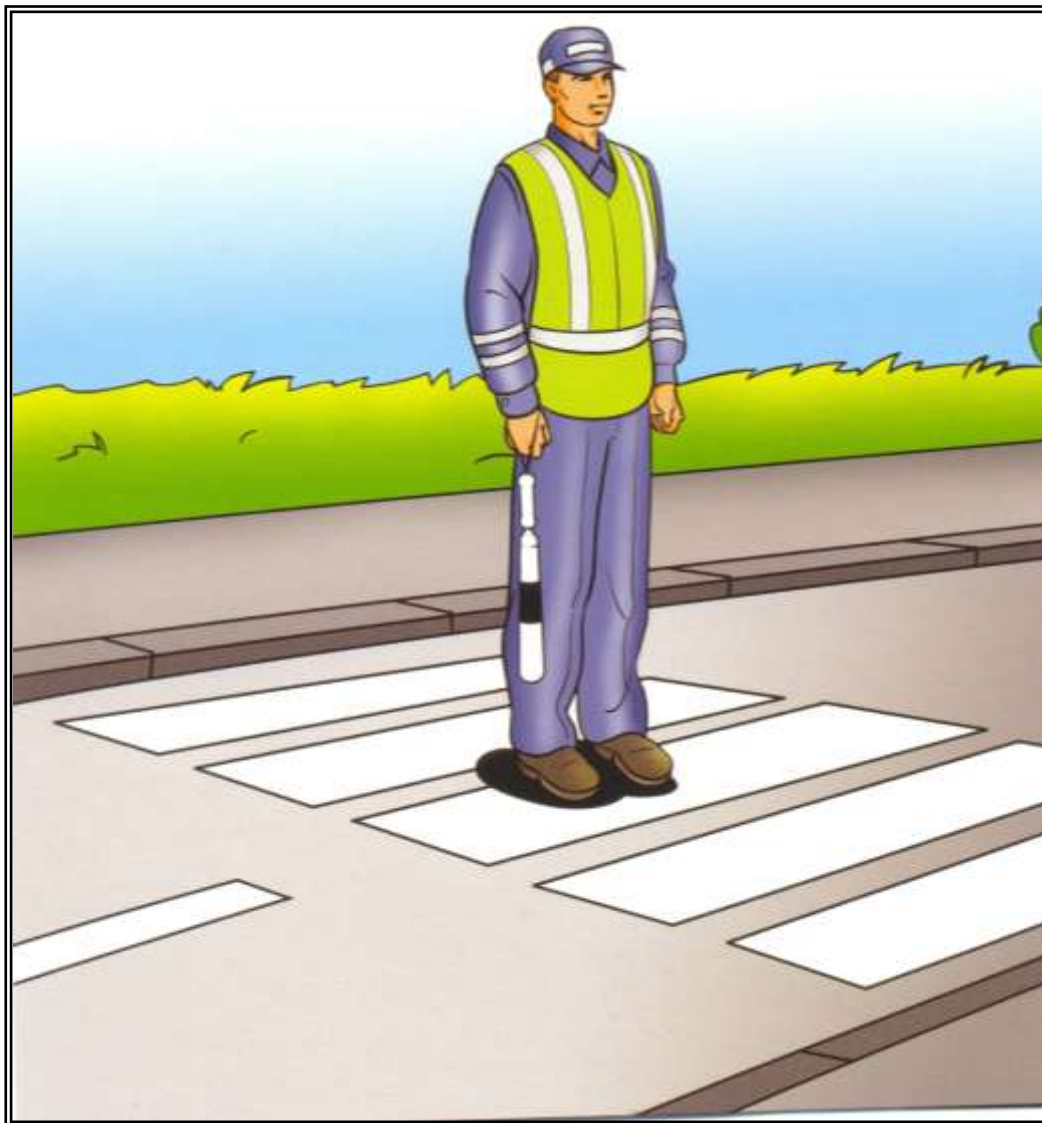


Ответ:

**Приложение № 6 «Сигналы регулировщика»**

*Задание: Установить разрешенные направления движения для пешеходов*

**Задача № 1**




Ответ: 1. Да   
2. Нет

Приложение № 7 «Сигналы регулировщика»

Задание: Установить разрешенные направления движения для пешеходов

Задача № 2




Ответ: 1. 1 и 3   
2. 2 и 4

Приложение № 8. «Проверка внимания и умения наблюдать за дорожной ситуацией»

Задание: *Продолжи предложение.*

**Задача № 1.** До беды остался .....

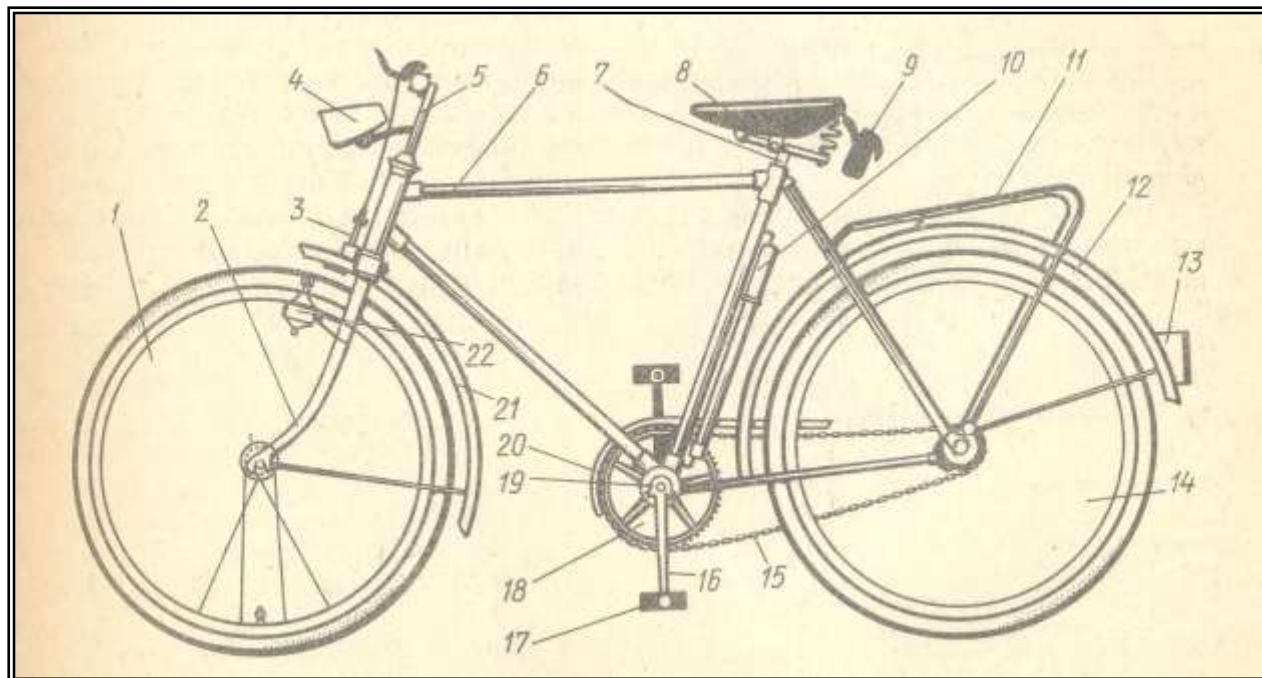


**Задача № 2** Дорога должна состоять из проезжей части и .....



## Приложение № 9 «Устройство велосипеда»

**Задача № 1.** Написать название деталей и узлов велосипеда.



- 1. -
- 2. -
- 3. -
- 4. -
- 5. -
- 6. -
- 7. -
- 8. -
- 9. -
- 10. -
- 11. -

- 12. -
- 13. -
- 14. -
- 15. -
- 16. -
- 17. -
- 18. -
- 19. -
- 20. -
- 21. -
- 22. -

## Приложение № 10 «Экипировка велосипедиста»

**Задача № 2.** *Написать основные элементы экипировки велосипедиста.*



1. –
2. –
3. –
4. –
5. –

Приложение № 11. **Знак «Конец населённого пункта»**

**Задание:** Кто не нарушает правила?

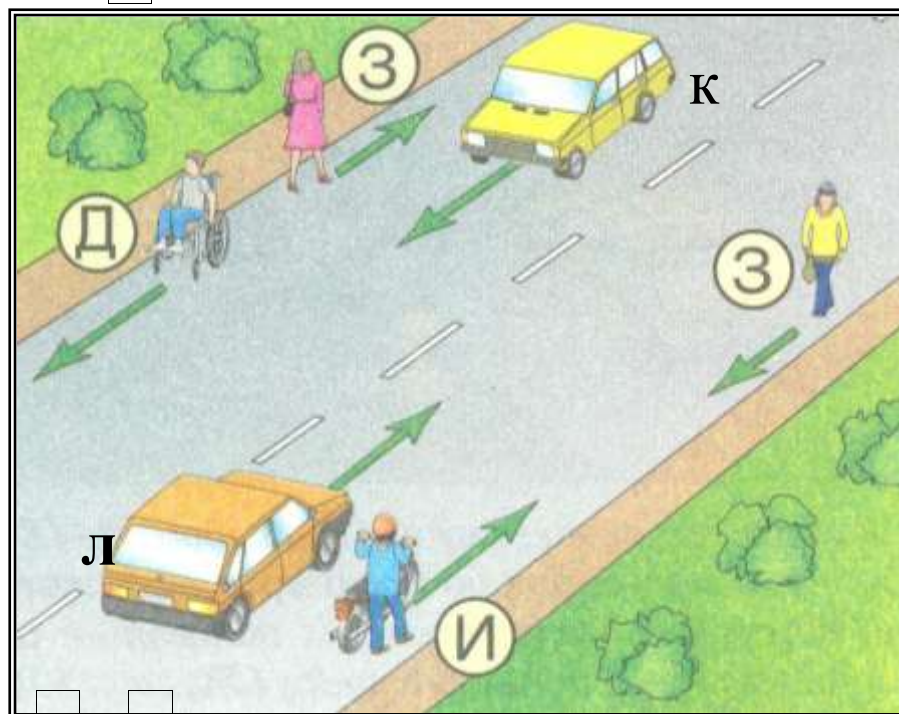


Задача № 1.



Ответ:

Задача № 2



Ответ:


# Приложение № 12      Знак «Жилая зона»

Задача № 1. Какое правило нарушает пешеход?



Ответ \_\_\_\_\_

Задача № 2. Кто пользуется преимуществом в движении?



Ответ:

Приложение №: 13. «Правила безопасного перехода проезжей части улиц и дорог»

Задание: *Напишите, где разрешается пересекать проезжую часть?*

Задача № 1.



Ответ: \_\_\_\_\_

Задача № 2.




Ответ: \_\_\_\_\_

Приложение № 14. «Дорожные знаки»

Задание: Выписать номера дорожных знаков:

Задача № 1. Группы приоритета.



Ответ:



Задача № 2. Группы особых предписаний.

1.



4.



6.



8.



3.



2.



5.

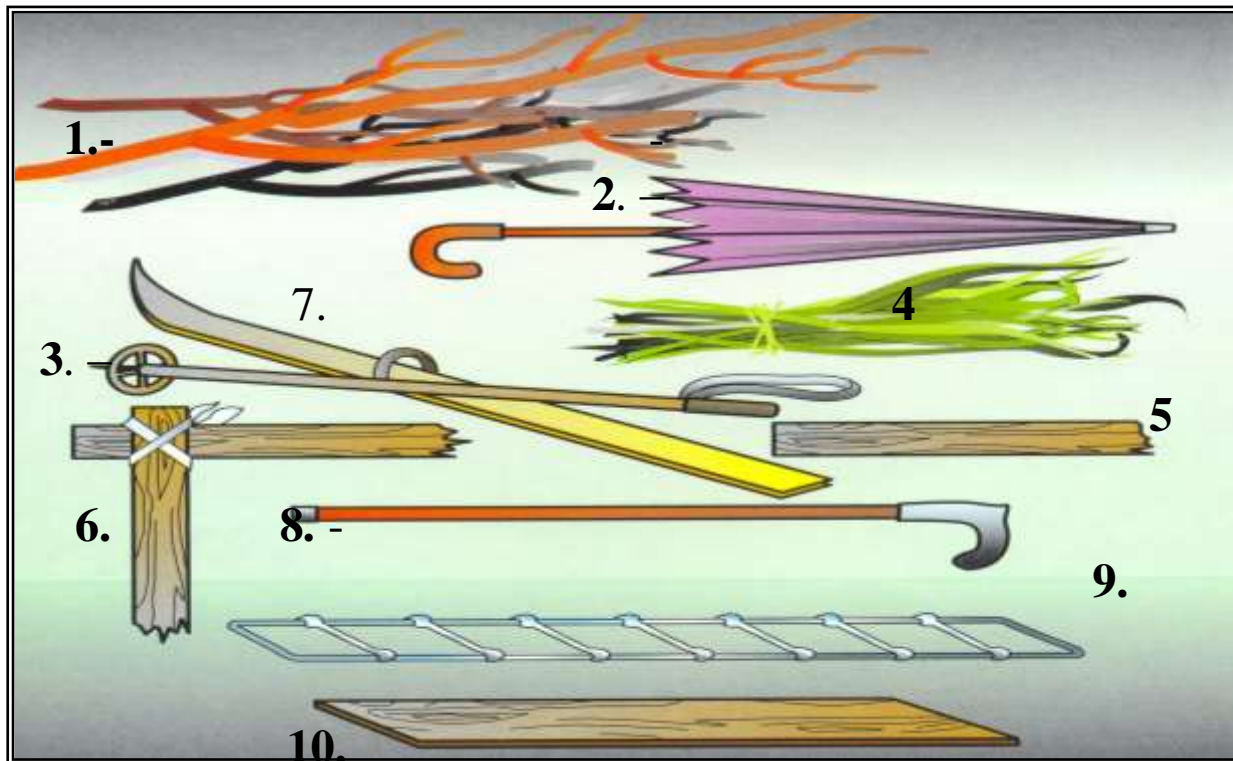


7.

Ответ:

Приложение № 15. «Подручные средства»

**Задание:** Перечислите подручные средства



Ответы: 1.-

2.-

3.-

4.=

5.-

6.-

7.-

8.-

9.-

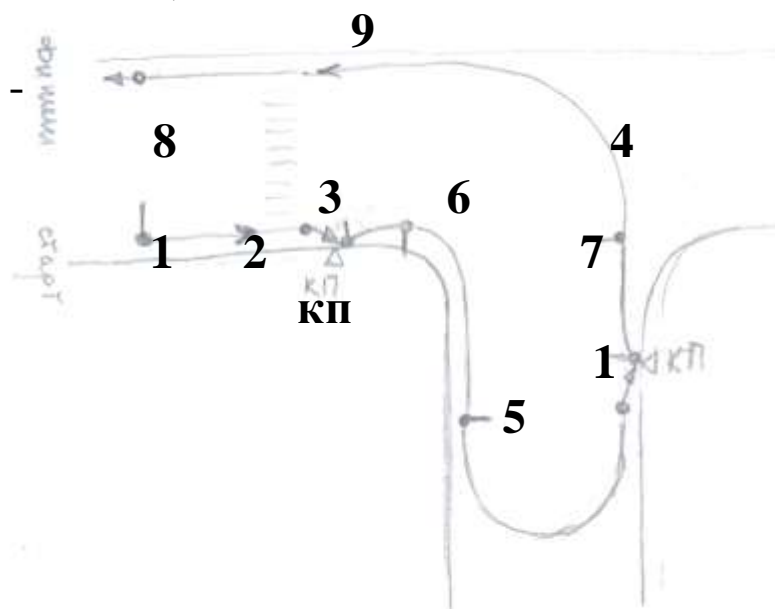
10. -

## «Автогородок» Российских соревнований «Безопасное колесо»



**Условные обозначения:**

- 1, 5, 7.** Точка с чёрточкой слева – начало движения, разворот, поворот налево;
- 2, 9.** Стрелка - снижение скорости перед пешеходным переходом, если есть пешеходы;



**3, 8.** Точка со стрелкой

- остановка;

**6. Точка** с чёрточкой справа - поворот направо.

**4.** Линия – путь движения велосипедиста

## Приложение № 16 «Автогородок»

**Задание:** Провести карандашом свой маршрут от старта через контрольные пункты (1 – 2 – 3 – 4) на схеме «Автогородка» до финиша, с соблюдением правил дорожного движения.

Финиш



Старт

## Приложение № 17 «Автогородок»

**Задание:** Провести карандашом свой маршрут от старта через контрольные пункты (2 – 3 – 4 - 1) на схеме «Автогородка» до финиша, с соблюдением правил дорожного движения.

**Финиш**



## Приложение № 18 «Автогородок»

**Задание:** Провести карандашом свой маршрут от старта через контрольные пункты (3 – 4 – 1 - 2) на схеме «Автогородка» до финиша, с соблюдением правил дорожного движения.



## Приложение № 19 «Автогородок»

**Задание:** Провести карандашом свой маршрут от старта через контрольные пункты (4 – 1 – 2 - 3) на схеме «Автогородка» до финиша, с соблюдением правил дорожного движения.

Финиш



Старт


Приложение № 20

## «Основы безопасности жизнедеятельности»

Плакат № 1.

На листе 15 дорожных знаков с номерами.

Задание № 1. *Выписать номера знаков, которые разрешают движение пешеходов по установленным путям движения и элементам улиц и дорог.*



1




2



3




4



5



6



7



8



9



10



11



12



13



14



15

Ответ;

--	--	--

# Приложение № 21

Задание № 2. Записать номера знаков, которые относятся к группе приоритета.




1



2




3



4



5



6



7



8



9



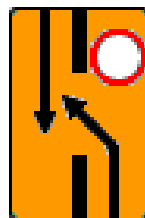
10



11




12



13



14



15

Ответ:

Приложение № 22

**«Основы безопасности жизнедеятельности»**

Задание № 3. Записать номера знаков, которые запрещают движение велосипедистов.




1




2



3



4




5



6



7



8




9



10



11



12



13



14



15

Ответ:

--	--	--	--	--


Приложение № 23

## «Основы безопасности жизнедеятельности»

Планшет № 2.

Задание: *Напишите последовательность действий велосипедиста при выполнении различных манёвров (поворот, обгон, пересечение трамвайных путей и дорог, разворот).*


- в зелёной футболке под № 1;



Ответ: \_\_\_\_\_

---

- в красной футболке под № 3:



Ответ: \_\_\_\_\_

---

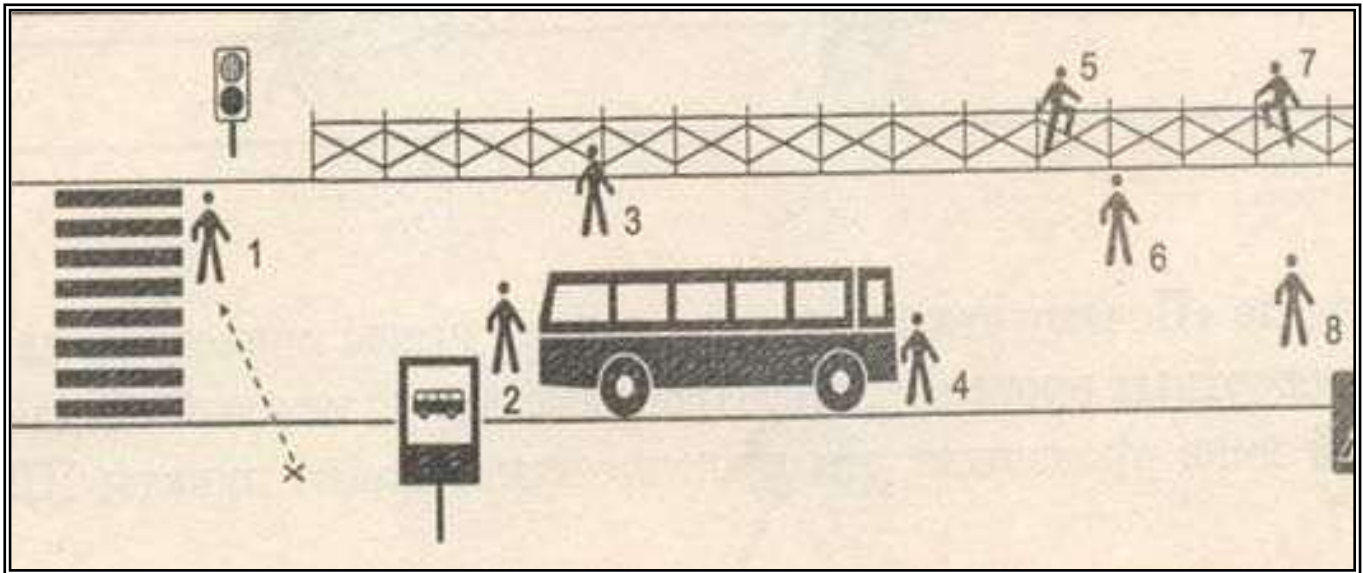
Приложение № 24

**«Основы безопасности жизнедеятельности»**

Планшет № 3.

Дан рисунок на знание неправильных или правильных типов поведения пешеходов

Задание: *указать номера пешеходов, которые нарушают правила поведения на дороге.*



Ответ: №№ \_\_\_\_\_

**Желаем точных ответов.....  
и ..... победы!**

**Оргкомитет.**